

06. febrúar 2024 kl. 8:30 - 11:30

Sveinspróf í rafvirkjun

Raflagnateikning

ásamt magnmælingu.



Nafn: _____
Kennitala: _____
Heimilisfang: _____

Hjálpargögn sem leyfð eru: Teikniáhöld, skriffæri, reglustrikur, teiknibretti A3 og reiknivél.

Skýringar: Próftaki skal fullgera teikningu í húsið ásamt almennum skýringum, þannig að teikningin sé tilbúin til samþykktar. Í húsið koma aðal- og greinatafla, sem próftaka bera að teikna einlínmyndir (töfluteikning) og snið af. Tákn fyrir rofa eru sýnd með hringjum, sem próftaki skal fullgera, en að öðru leyti þarf ekki að bæta við táknum.

Notast skal við tákni úr IEC 60617-DB-12M:2012 eða sambærilegt.

Gera skal efnislista (magnmæling) samkvæmt sérteikningu sem fylgir með.

Vægi: Lágspennulögn og skýringar	45 %
Einlínmynd	25 %
Smáspennulögn	10 %
Snið	5 %
Afstöðumynd	5 %
Magnmæling	10 %


Áritun prófdómara

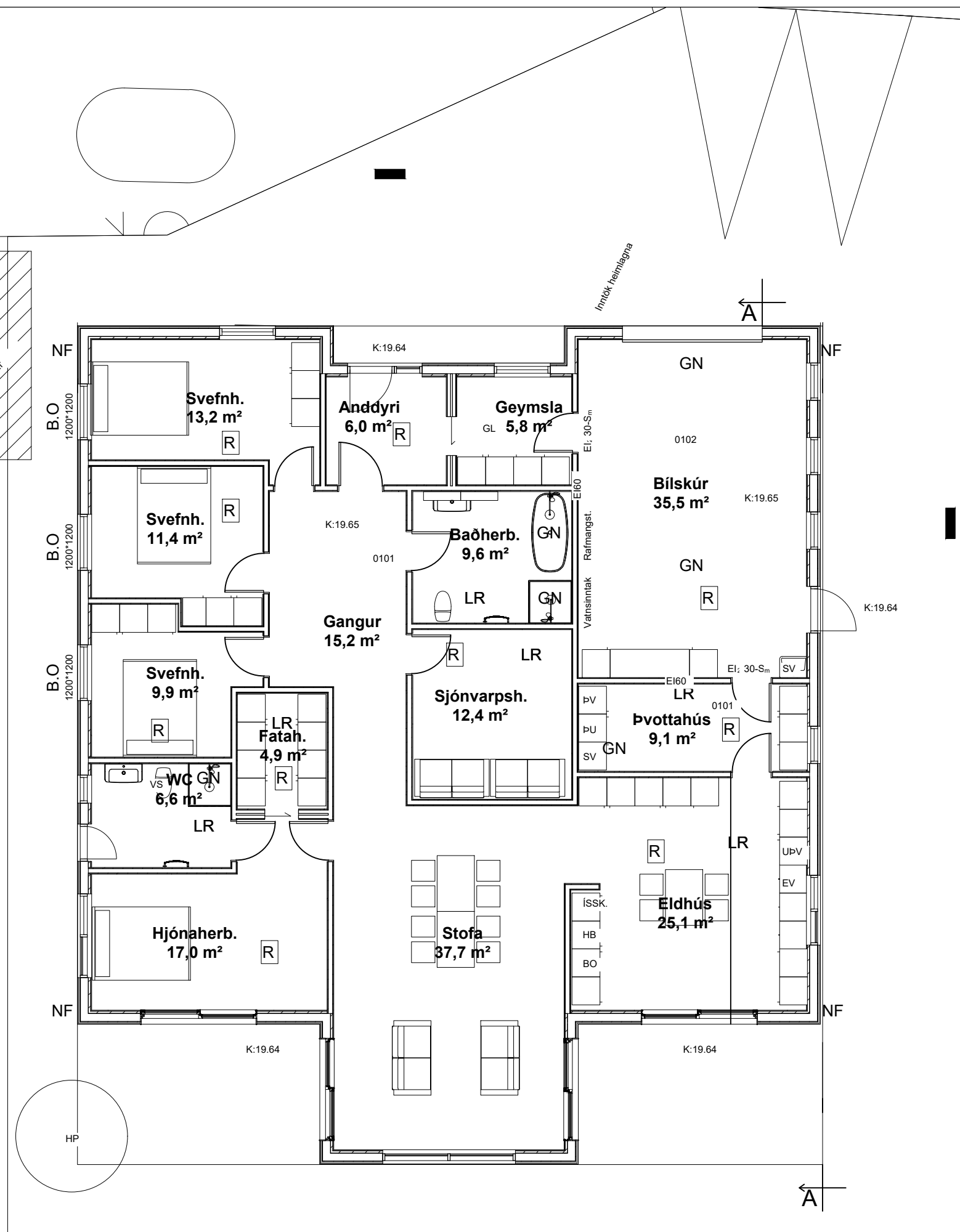
Skilað kl.	Aukablöð.	Mótttekið	Einkunn

Gangi þér vel !


Úrlausnartími: 3 klst.

Sveinsprófsnefnd sterkraum






LÖBARMÖRK



HELLULÖGN



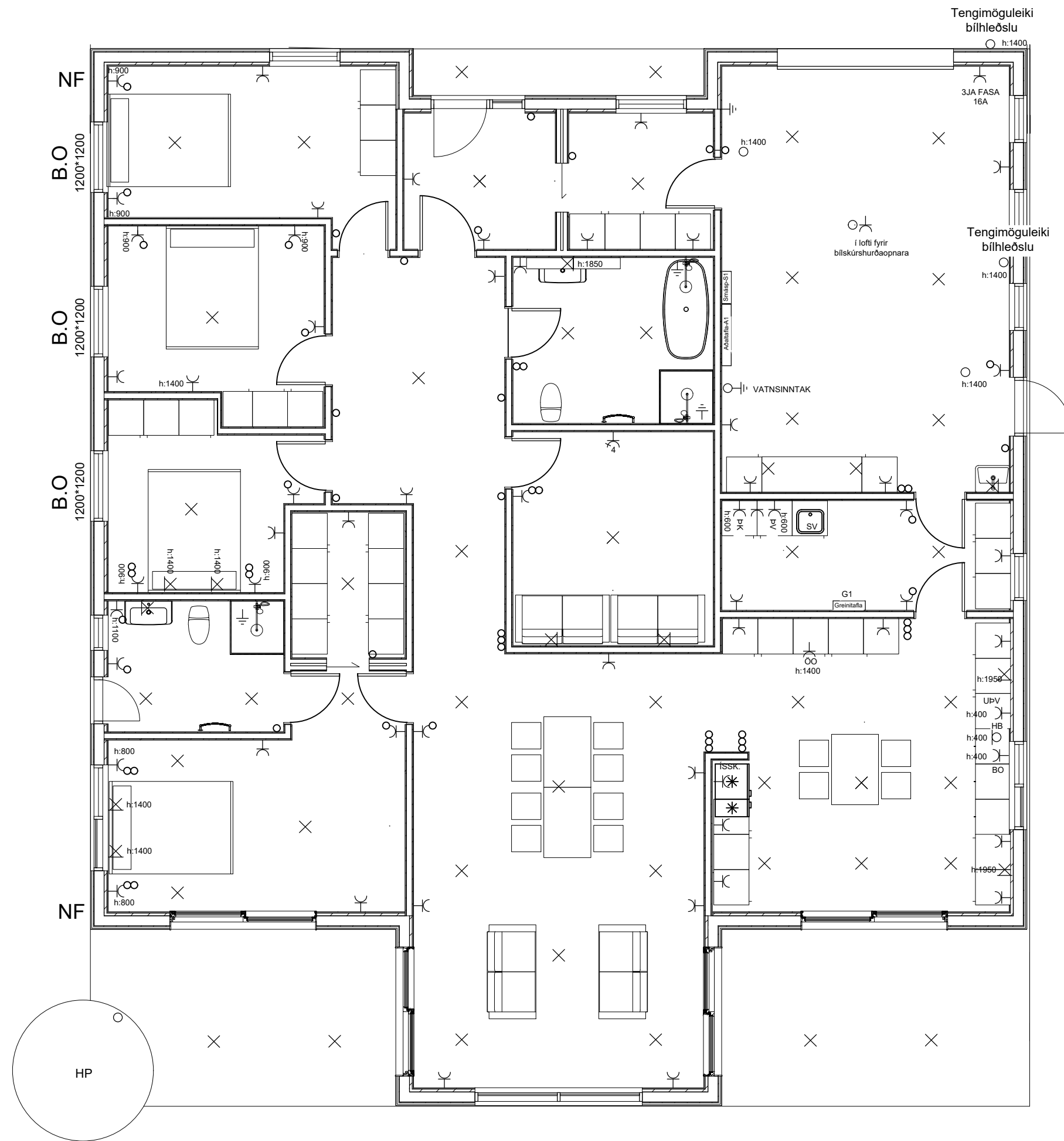
MKV 1:50

**Sveinsprófsnefnd
sterkstraums
Feb 2024**

Kerfi: YFIRLITSMYND

Nafn: _____

Kennit.: _____



Sorpgeymsla

- A1 Aðaltafla
- G1 Greinitafla
- S1 Smáspennutafla
- GN Gólfniðurfall
- [R] Reykskynjar
- LR Loftræsing
- NF Niðurfallsrör
- [] Handslökkvitæki
- SV Skolvaskur
- PV Þvottavél
- PUR Purrkari
- UPV Uppþvottavél
- BO Bakarofn
- ÖO Örbylgjuofn
- HB Helluborð
- ÍSSK Ísskápur
- K:0,00 Hæð í metrum yfir sjávarmáli

MKV 1:50

**Sveinsprófsnefnd
sterkstraums
febrúar 2024**

Kerfi: LÁGSPENNULÖGN OG SKÝRINGAR VÆGI:45%

Nafn: _____

Kennit.: _____

Sveinsprófsnefnd
sterkstraums
febrúar 2024

Kerfi: LÁGSPENNULÖGN_OG_SKÝRINGAR VÆGI:45%

Nafn: _____

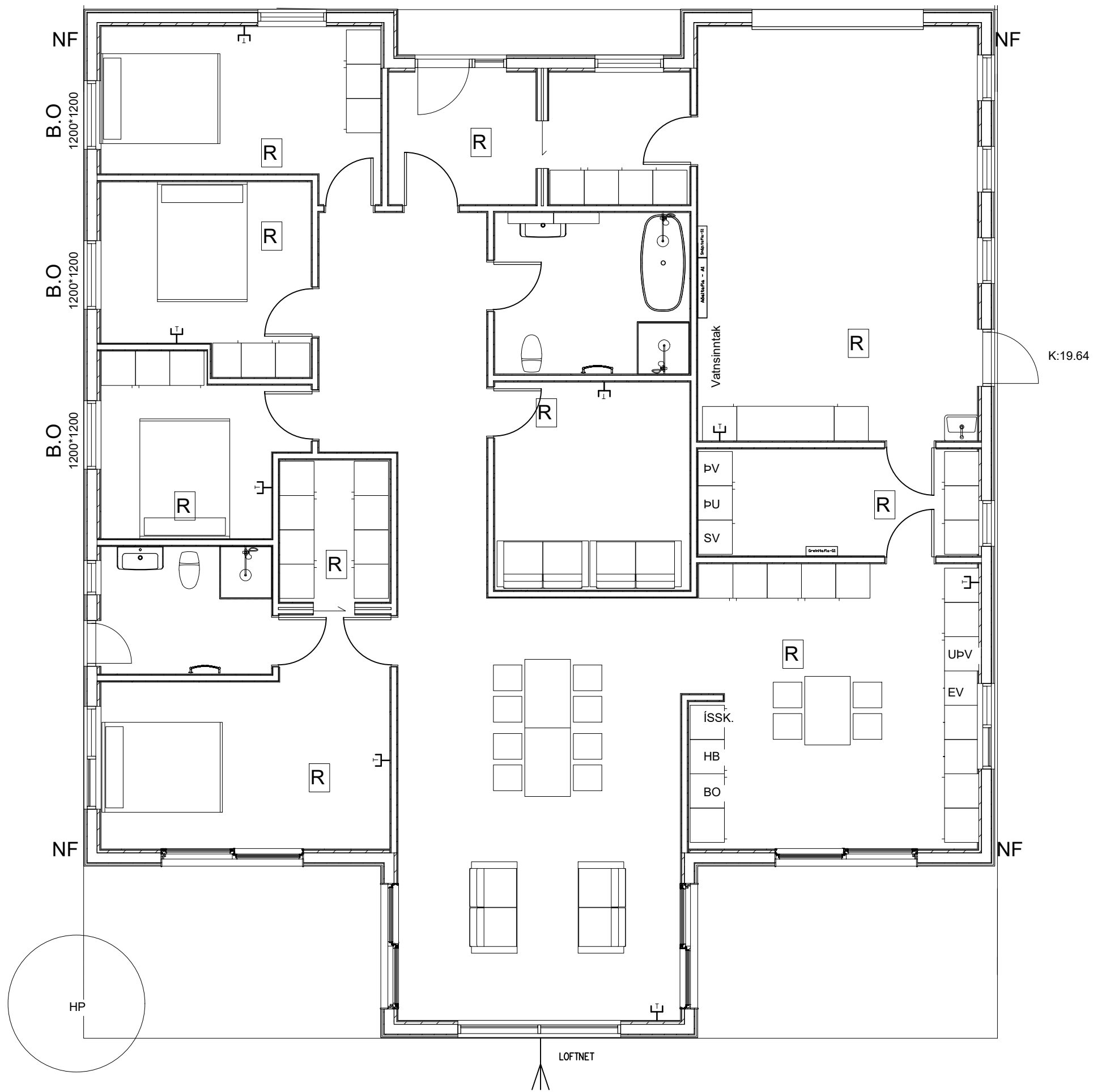
Kennit.: _____

Sveinsprófsnefnd
sterkstraums
febrúar 2024

Kerfi: EINLÍNUMYND VÆGI: 25%

Nafn: _____

Kennit.: _____



Sorpgeymsla

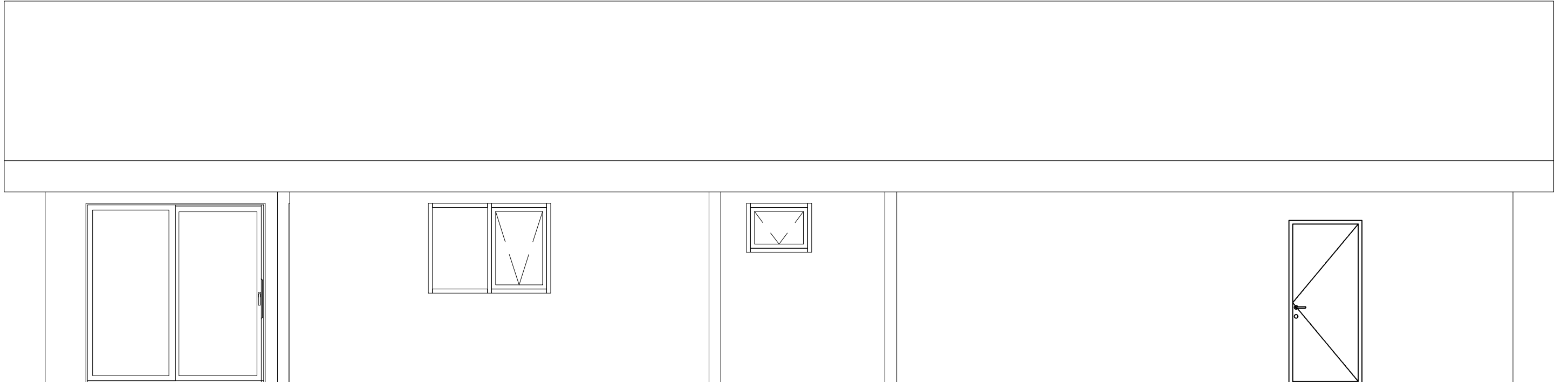
K:19.64

Kvarði 1:50

Sveinsprófsnefnd
sterkstraums
febrúar 2024

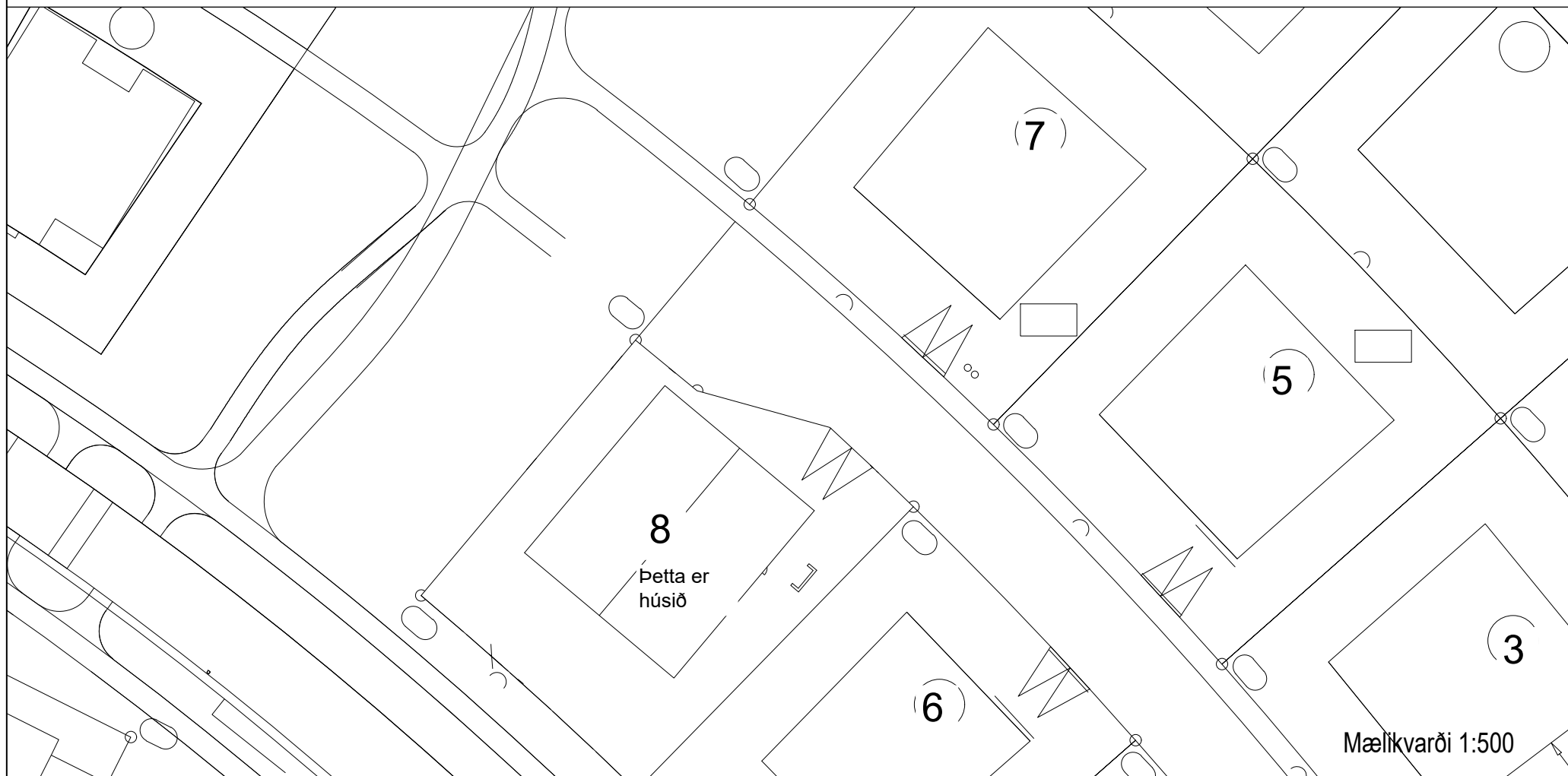
Kerfi: SMÁSPENNULÖGN VÆGI:10%
Nafn: _____
Kennit.: _____

Mælikvarði 1:50



Snið A-A

Mælikvarði 1:50



Mælikvarði 1:500

Sveinsprófsnefnd sterkstraums febrúar 2024	
Kerfi:	SNID-AFSTÖDUMYND VÆGI:10%
Nafn:	_____
Kennit.:	_____

